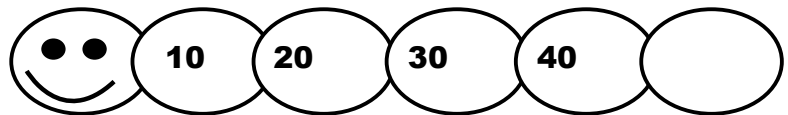
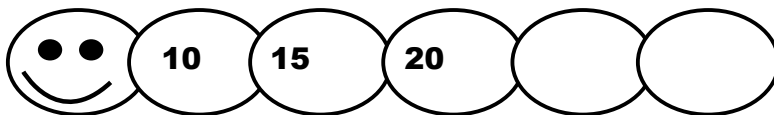


FICHA
Sesión 8 matemática
SEGUNDO GRADO




	Representación gráfica (base diez y/o regletas de colores)	Piedritas y/o cuentas	Billetes y monedas	Pictórica	Tablero de valor posicional								
Grupo 1	Ej.				<table border="1"><tr><td>U</td><td>D</td></tr><tr><td></td><td></td></tr></table> <table border="1"><tr><td>U</td><td>D</td></tr><tr><td></td><td></td></tr></table>	U	D			U	D		
U	D												
U	D												
Grupo 2													

FICHA
Sesión 8 matemática
SEGUNDO GRADO

BLOQUE 1: Cada gusanito lleva números en su cuerpo. Ayúdale a completarlos.



BLOQUE 2: Cada caja del tren tiene cierta cantidad de carga. Descubre cuánto llevan las últimas cajas de cada tren.



BLOQUE 3: Al gatito se le perdieron algunas tarjetas con números. Ayúdale a recordar los números que faltan.

